



தீட்டுக்கள்

முதலாந் தவணை மாதிரி வினாத்தாள்



தரம்
01

கணிதம்

புள்ளி




பெயர் :

01) உருக்களை வேறுபடுத்தி நிறம் தீட்டுக.






(02 X 03 = 06 புள்ளிகள்)

02) மிகப்பெரிய உருவின் கீழ் கோடிடுக.




(03 X 03 = 09 புள்ளிகள்)

03) உயரம் குறைந்த உருவிற்கு நிறம் தீட்டுக.




(03 X 04 = 12 புள்ளிகள்)

04) (01) முன்னால் உள்ள பிராணிக்கு X இடுக.


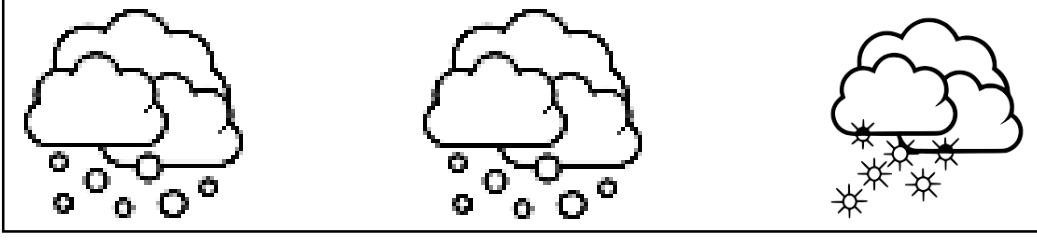


(02) நடுவில் உள்ள பழத்திற்கு நிறந்தீட்டுக.




(02 X 04 = 08 புள்ளிகள்)

05) வித்தியாசமான உருவை நிறம் தீட்டுக.



(04 X 02 = 08 புள்ளிகள்)

06) மிகச் சிறியதிலிருந்து மிகப் பெரியது வரை வரைக.



(01 X 05 = 05 புள்ளிகள்)

07) எண்ணிக்கைக்கு பொருத்தமானதை இணைக்குக.

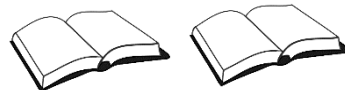
1



2

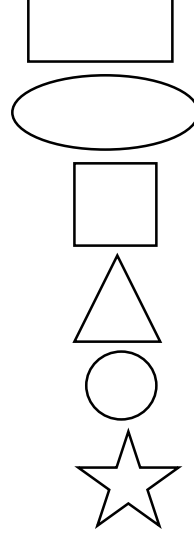
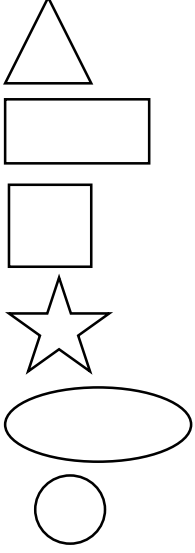


3



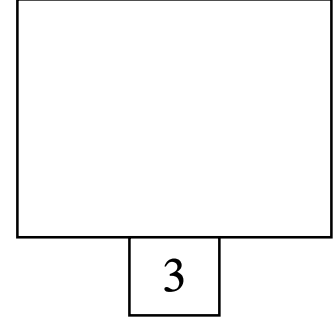
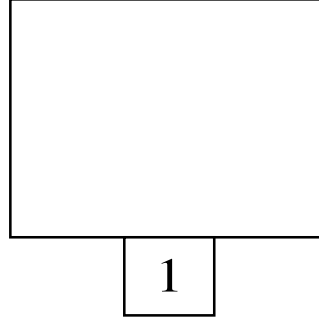
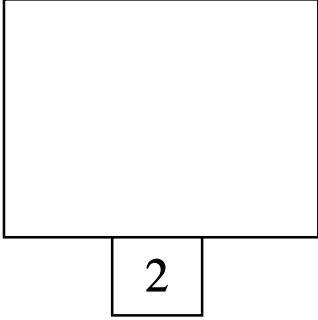
(03 X 03 = 09 புள்ளிகள்)

08) ஒத்த உருவை இணைக்குக.



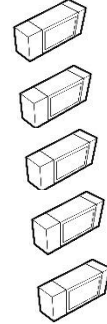

(06 X 03 = 18 புள்ளிகள்)

09) இலக்கங்களுக்கு சமனான உருவை வரைக.



(03 X 04 = 12 புள்ளிகள்)

10) கோடு கீறி ஒன்றுடன் ஒன்று இணைக்குக.



பென்சில்களின் எண்ணிக்கைக்கு அழிற்ப்பர்களின் எண்ணிக்கை சமமாக உள்ளதா?

(ஆம் / இல்லை)

(01 X 07 = 07 புள்ளிகள்)

11) எண்குறியை எழுதுக.

இரண்டு

மூன்று

ஒன்று

(05 X 02 = 10 புள்ளிகள்)